



Usiądź, Gościu, pod moim liściem



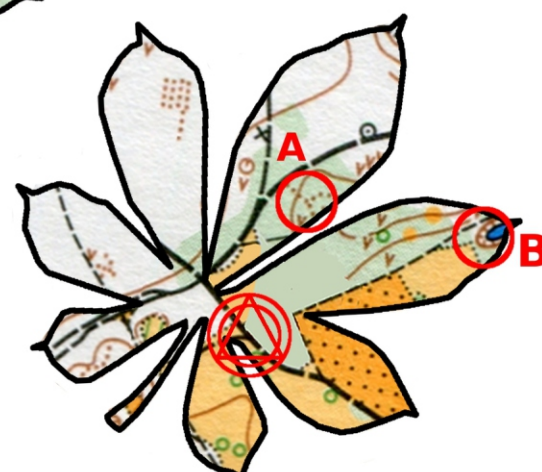
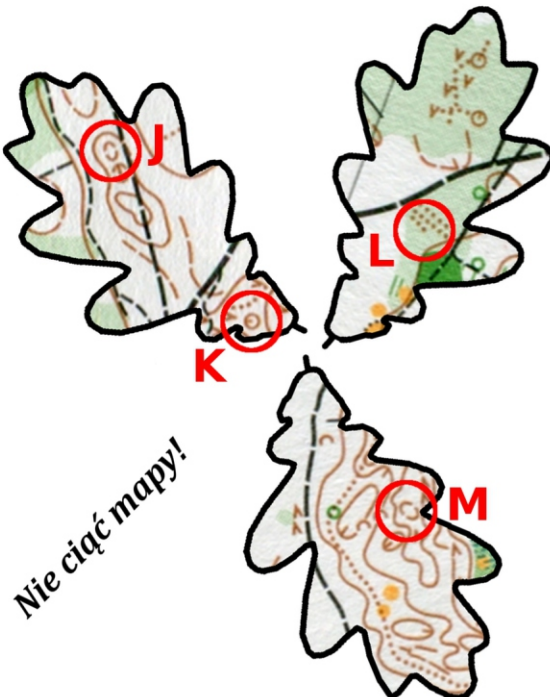
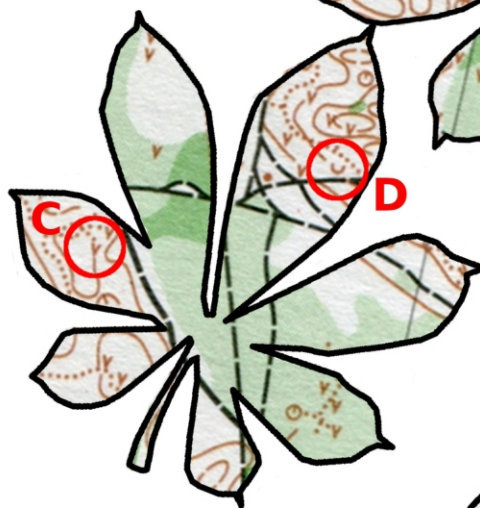
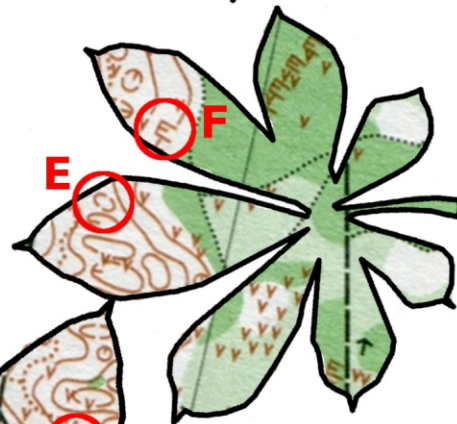
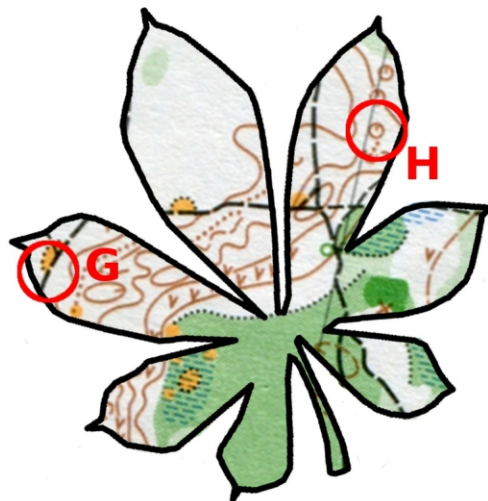
Kat. TU Etap 1

Długość: 3,5 km
 Limit czasu: 100 + 30 min
 Do potwierdzenia: 15 PK (z 17)
 (w tym obowiązkowo wszystkie kasztanowe i dębowe)
 Kolejność dowolna.
 Skala: nieznana, stała
 Aktualność mapy: 1999 r.
 (PZBnO 99-12-782-MAZ)

Mapa składa się z 11 liści.
 Liście kasztanowca znajdują się w planie startu/mety.
 Pozostałe liście (dębowe i lipowe) pokrywają się częściowo z przynajmniej jednym innym liściem oraz są poobracane. Dębowe liście zlustrowano. Wszystkie liście są w tej samej skali.

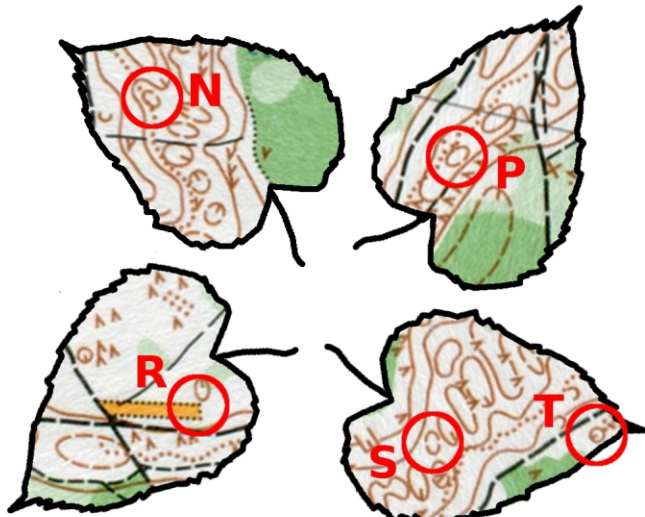
Zadania:

- 1) Jaki jest azymut z PK J na PK M?
- 2) Jaki kolor szlaku rowerowego przebiega przez teren etapu?



Nie ciąć mapy!

Liściana ściągawka:



Kat. TU
Etap 1

*Rozmieszczenie
liści*



XII WAKACYJNE SERCE Z LAMPIONEM

Etap II- „Na prawo czy na lewo”





Budowniczy Robert Kamela

TRASA TU

Długość trasy 6km

Limit czasu 170+50 min

Skala ?; PK ≤ 15



START
META

To będzie długi etap więc zrobimy sobie spacer głównymi drogami po tym terenie. Czasami będziemy musieli zdecydować **czy pójść na prawo czy lewo drogi** aby odnaleźć punkt. Główne drogi na mapie są naszkicowane liniami oddając tylko ich kierunek. Ich rzeczywisty kształt będzie się trochę różnił, punkty przecięcia dróg znajdują się w planie mapy.

W planie mapy znajdują się również środki wycinków z treścią mapy. Wycinki te występują parami połączone linią przerywaną i mogą być zamienione miejscami, obrócone i mają różną skalę (nie ma luster). Jeśli poszedł w złą stronę stracisz czas i możesz wpaść w minuty karne na mecie. Czy skusisz się na przejście bezpośrednio pomiędzy punktami? **POWODZENIA**
Tel. awaryjny 691 754 384

Wzorcówka TU E2 (i TZ E1)

