




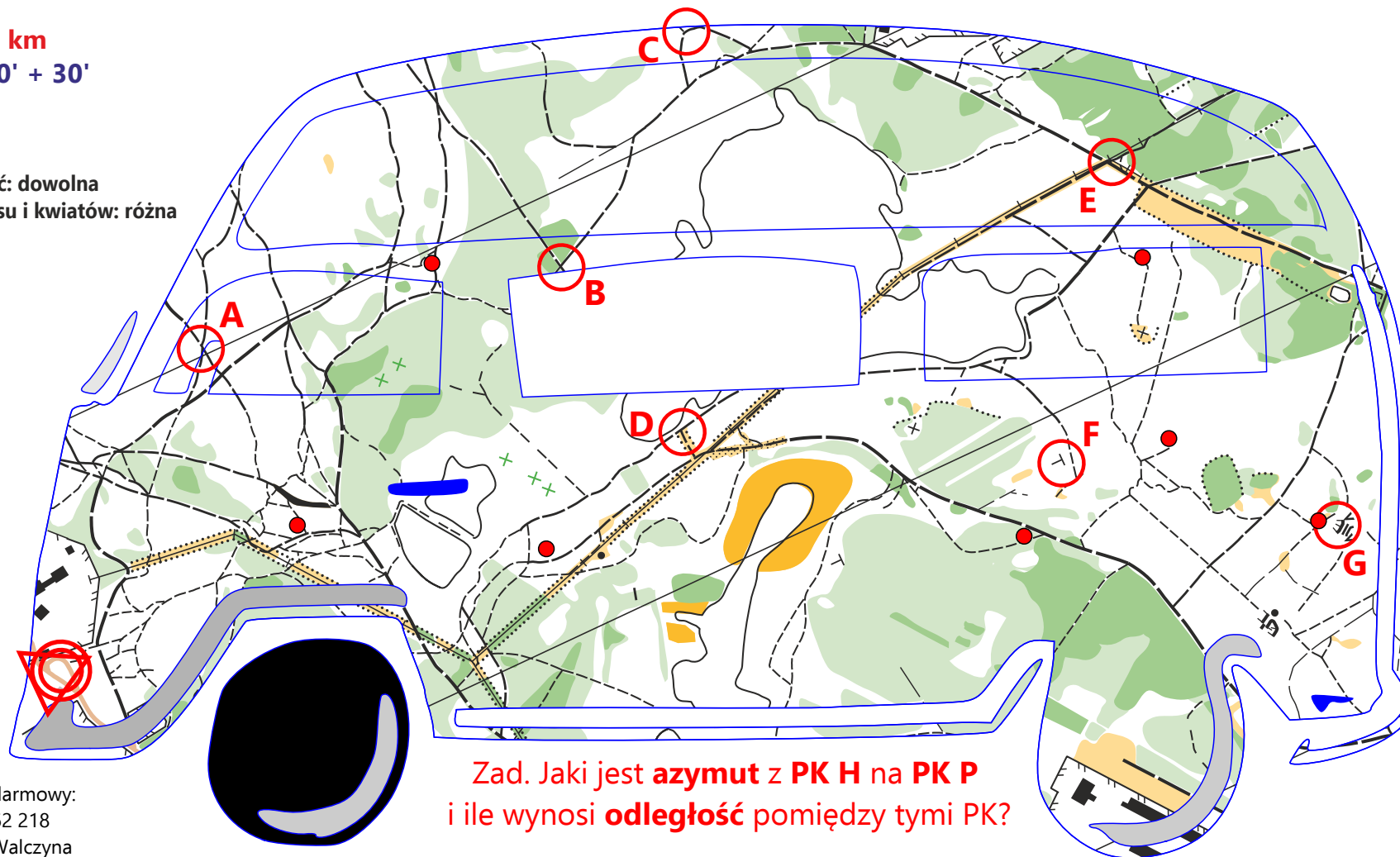
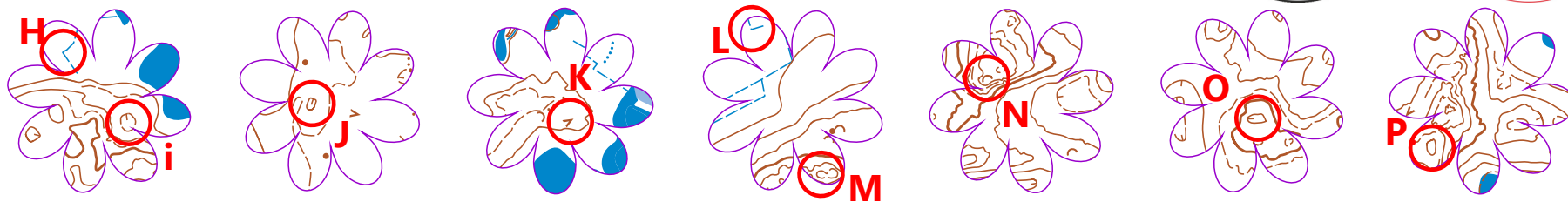
Rajdowe przygody kwietnej pogody



Kat. **TU**
Etap 1

L = **3,8 km**
T = **110' + 30'**
PK: 16

Kolejność: dowolna
Skala busu i kwiatów: różna



Mapa zawierająca dwie warstwy została zaprezentowana w postaci busu „dzieci-kwiatów”, ozdobionego kwiatami, których środki oznaczono czerwonymi kropkami na busie. Poobracane kwiaty należy dopasować do odpowiednich kropek.

Mapa do użytku tylko i wyłącznie podczas Wiosennych Marszów na Orientację „WiMnO 2017”.

Zad. Jaki jest **azymut** z PK H na PK P i ile wynosi **odległość** pomiędzy tymi PK?

Telefon alarmowy:
605 962 218
Dariusz Walczyna

Budowniczy PlnO 420: