

Nadleśnictwo Pułtusk - Leśnictwo Popławy

Ścieżka przyrodniczo-dydaktyczna "Nasz Las"

Zabieram Was na spacer do Lasów Pułtuskich.

Trasa prowadzi ścieżką przyrodniczo-dydaktyczną "Nasz las".

Krzyżykami oznaczono tablice informacyjne

(w miejscu każdego krzyżyka znajduje się od 1 do 3 tablice).

Przez ten teren przebiegają dwa piesze szlaki turystyczne

(czerwony i żółty - zaznaczono je na schemacie).

Na mapie zaznaczono 17 punktów kontrolnych (PK).

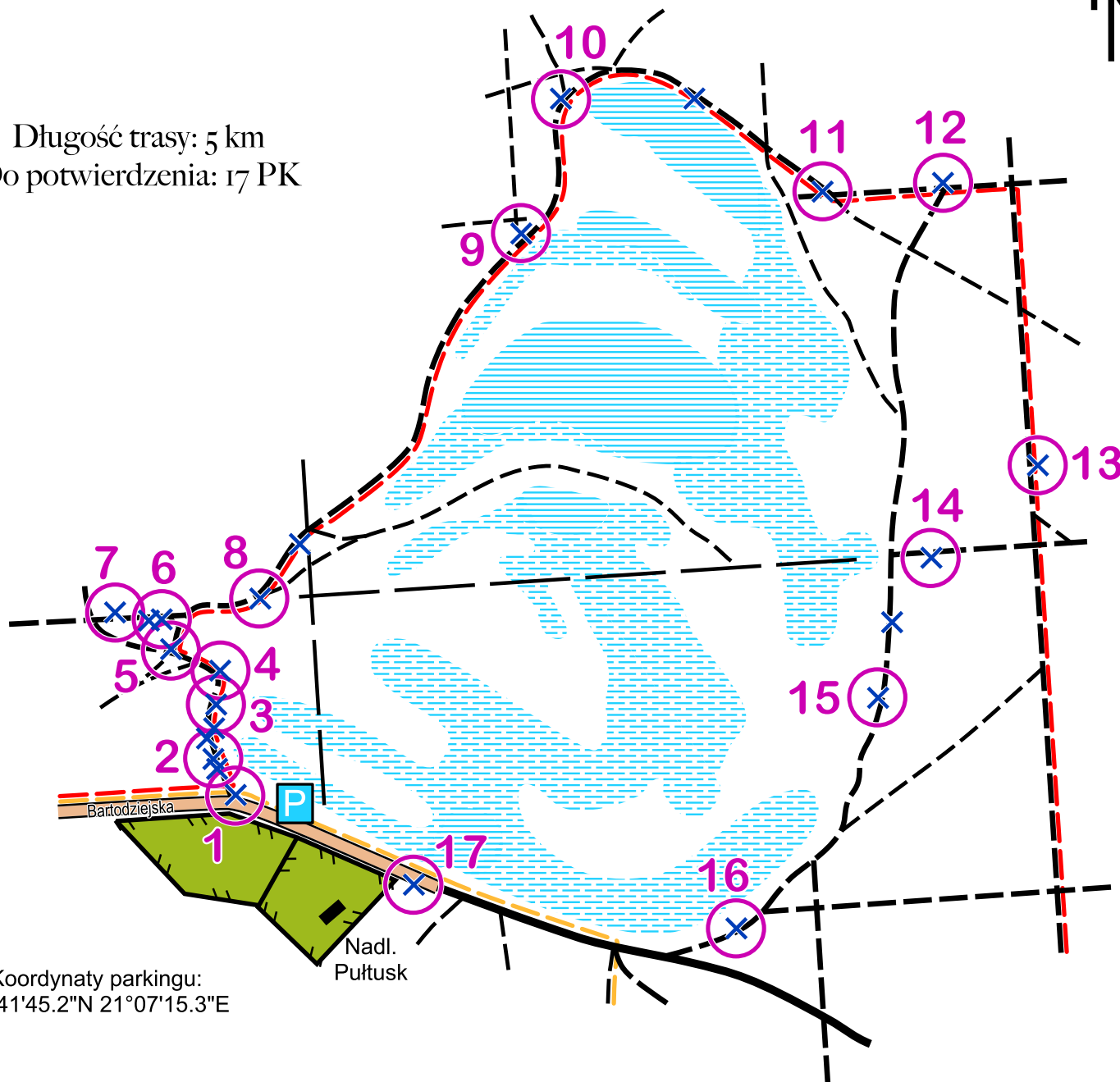
Do każdego z nich zadano pytanie.

Do części PK dodatkowo należy dopasować zdjęcie (bezpośrednio na PK lub w bliskiej odległości od niego).

Uwaga - jest kilka zdjęć zmyłkowych! ;)



Długość trasy: 5 km
Do potwierdzenia: 17 PK



Koordinaty parkingu:
52°41'45.2"N 21°07'15.3"E

Jeśli chcesz, odpowiedzi możesz

przesłać na adres:

tropiciellampionow(lampion_z_ogonkiem@gmail.com

Lista uczestników będzie umieszczona

na stronie Klubu InO STOWARZYSZE.

Opracowanie trasy i zdjęcia: Barbara Szmyt

Aktualność trasy i zdjęć: 8.05.2020 r.

PK	Pytanie	Odpowiedź	Zdjęcie?
I	Jaki gatunek drzewa sprowadzany jest z Nadleśnictwa Jabłonna do szkółki w Orzycu?		
2	Ile km jeź może przejść w ciągu jednej nocy?		
3	Na jakiej wysokości dokonuje się pomiaru pierśnicy?		
4	Z ilu sterówek składa się ogon dzięcioła?		
5	Ile kast występuje w społeczności mrówek?		
6	Do ilu % planowany jest wzrost lesistości w 2050 r. wg KPZL?		
7	O której godzinie Bawarczycy przekroczyli Narew?		
8	Jakie ssaki zamieszkują runo leśne?		
9	Ile razy pszczoła musi przysiąć na kwiatkach, aby wytworzyć 1 kg miodu?		
10	Jak owłosione są orzeszki lipy szerokolistnej?		
II	Ile % powierzchni leśnej w Polsce zajmują siedliska borowe?		
12	Gdzie nie występują dzięcioły?		
13	Ile kręgów szyi ma zwierzę z tablicy?		
14	Co w całości obejmuje najmniejszy z wymienionych rezerwatów?		
15	Co ostrzegawczo robi żubr, gdy spotka człowieka?		
16	Co hamują owoce tarniny?		
17	Jaką szerokość podstawy mogą osiągnąć żeremia?		


Zdjęcia do dopasowania:



A



B



C




D




E



F



G



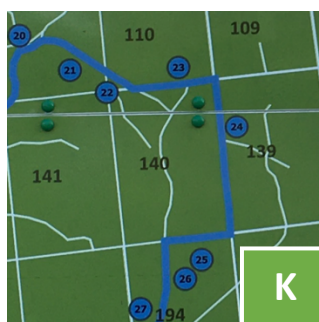
H



I



J



K



L