



V Ogólnopolski Rajd na Orientację "Przejście Smoka"
 Łódź-Łagiewniki, 10-12 października 2014 r.

TP E1

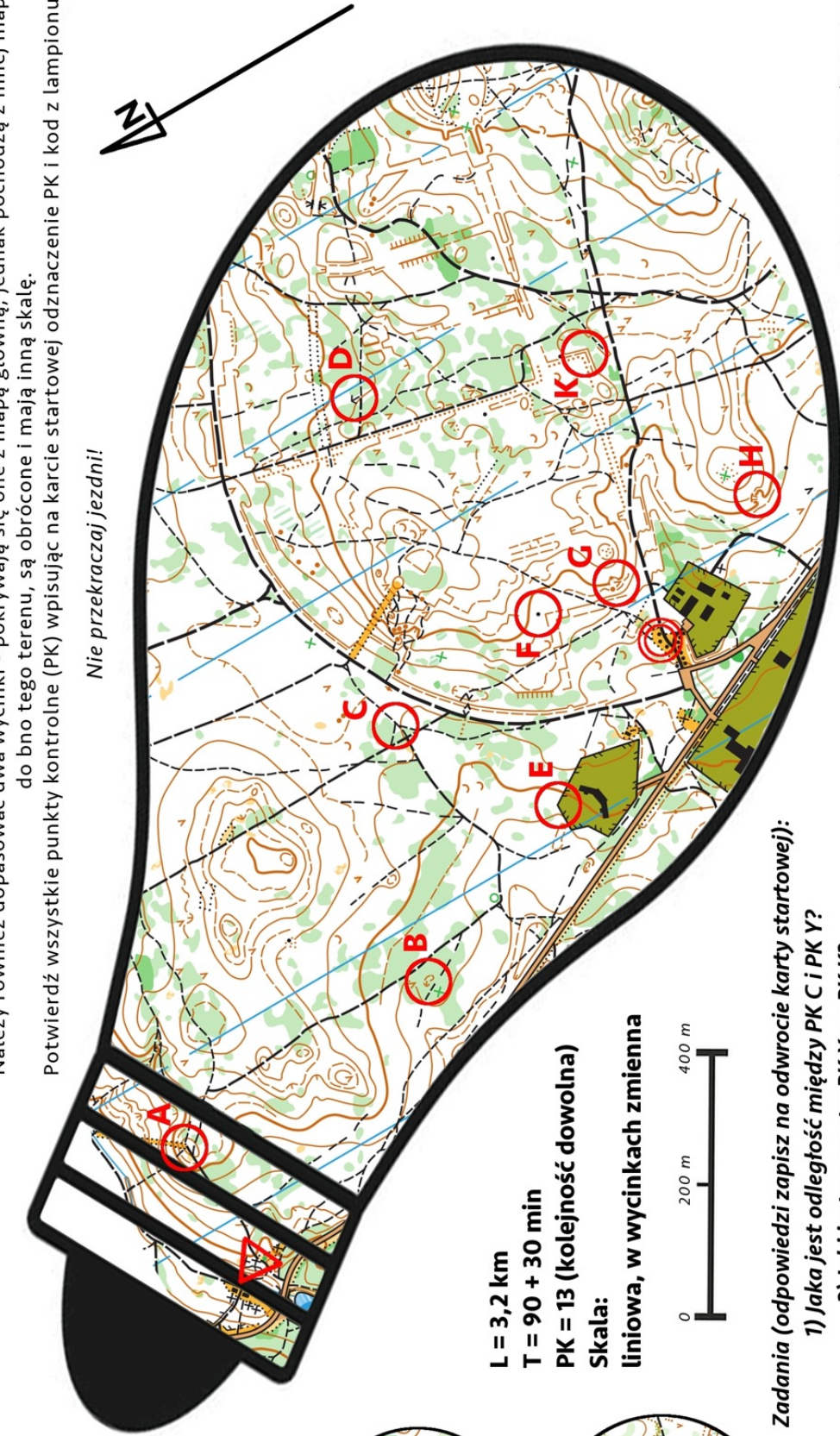
Kto włożył las do żarówki?

Energetyczny smok włożył mapę do żarówki. Mapa nie jest przekształcona.

Należy również dopasować dwa wycinki - pokrywają się one z mapą główną, jednak pochodzą z innej mapy do bno tego terenu, są obrócone i mają inną skalę.

Potwierdź wszystkie punkty kontrolne (PK) wpisując na karcie startowej odznaczenie PK i kod z lampionu.

Nie przekraczaj jezdnii!



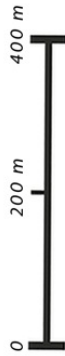
L = 3,2 km

T = 90 + 30 min

PK = 13 (kolejność dowolna)

Skala:

liniowa, w wycinkach zmienna



Zadania (odpowiedzi zapisz na odwrocie karty startowej):

1) Jaka jest odległość między PK C i PK Y?

2) Jaki jest azymut z PK X na PK K?

Potwierdzenie punktu kontrolnego (PK) odbywa się poprzez wpisanie na kartę startową oznaczenia z mapy np. A i kodu z lampionu np. XY. Zmiana potwierdzenia przeprowadza się wpisując nowe poprawne potwierdzenie w kolejnym polu karty startowej. Nie kreślić.

1	LOP	2
QE	QT	QR



Budowa: Barbara Szmyt (PInO nr leg. 660)
 Telefon awaryjny: 501 160 903



V Ogólnopolski Rajd na Orientację "Przejsście Smoka" Łódź-Łagiewniki, 10-12 października 2014 r.

TP E2

Z drzewa spadł liść

Potwierdź wszystkie punkty kontrolne (PK) wpisując na karcie startowej odznaczenie PK oraz kod z lampionu.

PK na linii obowiązkowego przebycia (LOP) potwierdzamy wpisując nazwy drzew widniejących na słupkach, takich jak na zdjęciu poniżej (na LOP nie ma lampionów).

PK H potwierdzamy wpisując na karcie startowej odpowiedź na pytanie: jaki rok widnieje na mogile? (w tym miejscu nie ma lampionu)
PK X znajduje się w odległości 330 m i na azymut 218,5 stopnia od PK F.

Zadania (odpowiedzi zapisz na odwrocie karty startowej):

- 1) Jaką ścieżkę wyznaczono wzdłuż LOP?
- 2) Obok jakiego rezerwatu przebiega trasa?

L = 3,2 km

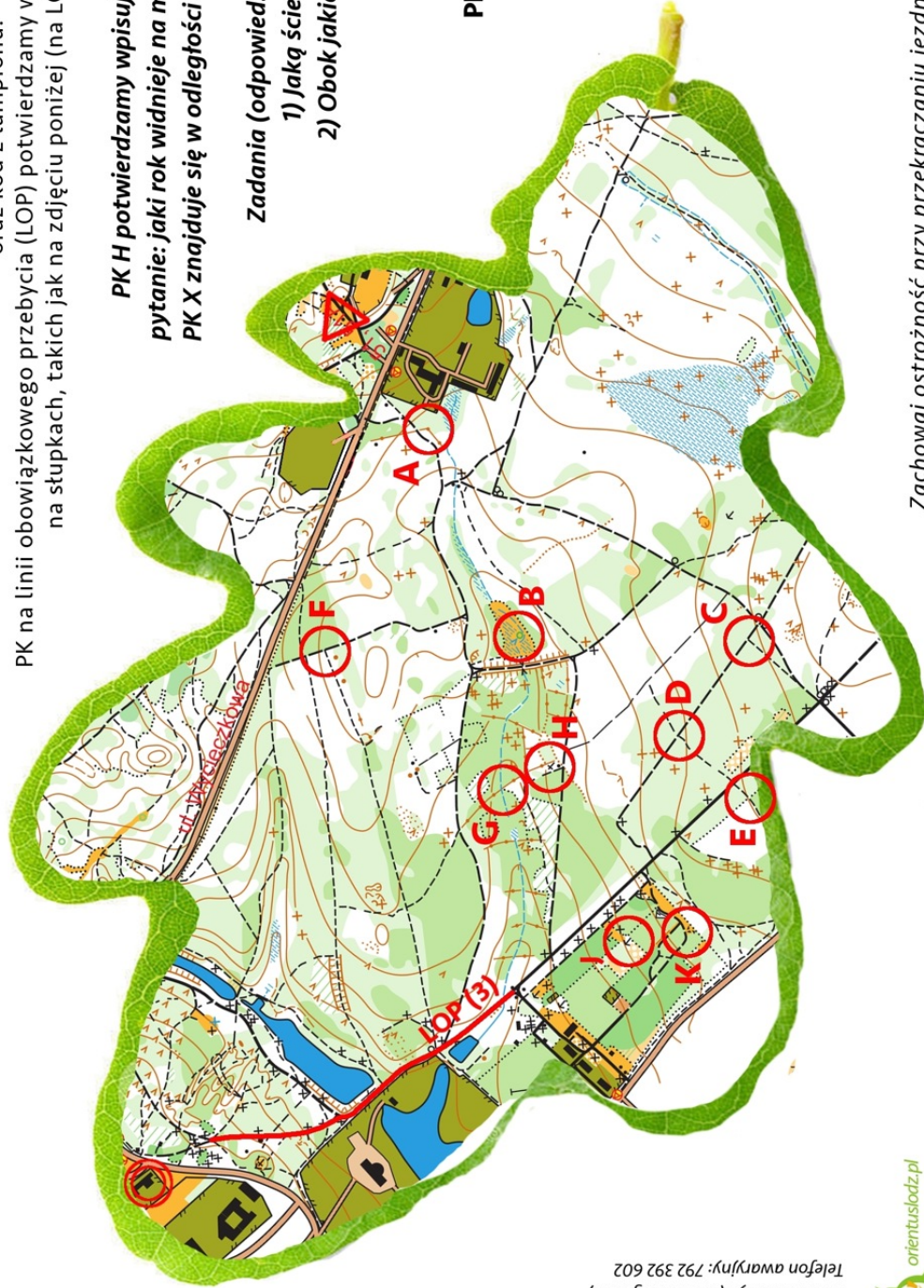
T = 90 + 30 min

PK = 14 (10 PK z mapy + PK X + 3 LOP)

Kolejność dowolna.

Skala: nieznana, stała

Budowa:
Anna Malanowska (OlnO 59/2014/8)
Barbara Szmyt (PInO nr leg. 660)
Telefon awaryjny: 792 392 602



Tak wygląda słupki na LOP:



Zachowaj ostrożność przy przekraczaniu jezdnii!



V Ogólnopolski Rajd na Orientację "Przejście Smoka"
Łódź-Łagiewniki, 10-12 października 2014 r.

TP E3

Przygody Małpki nocą, co w jaju się kocą

Długość trasy: 2,9 km

Limit czasu: 100 + 30 min

Do potwierdzenia: 13 PK

Kolejność dowolna.

Skala liniowa.

Małpka kapucynka przeszła smoka i znalazła się w równoległym świecie smoczego jaja. Tylko nóżki jej wystawały poza skorupkę:)

Jajo jest mapą terenu bliższych i dalszych okolic bazy.

Małpka zakrywa część terenu.

Zadania:

1. Jaka jest odległość z PKB do PKK?
2. Ile jest mostów z PKK do PKL?



Budowniczy PInO 420:
ORIENTACJA

Budowniczy: Dariusz Walczyna (PInO 420)
Tel. awaryjny: +48 605 962 218