

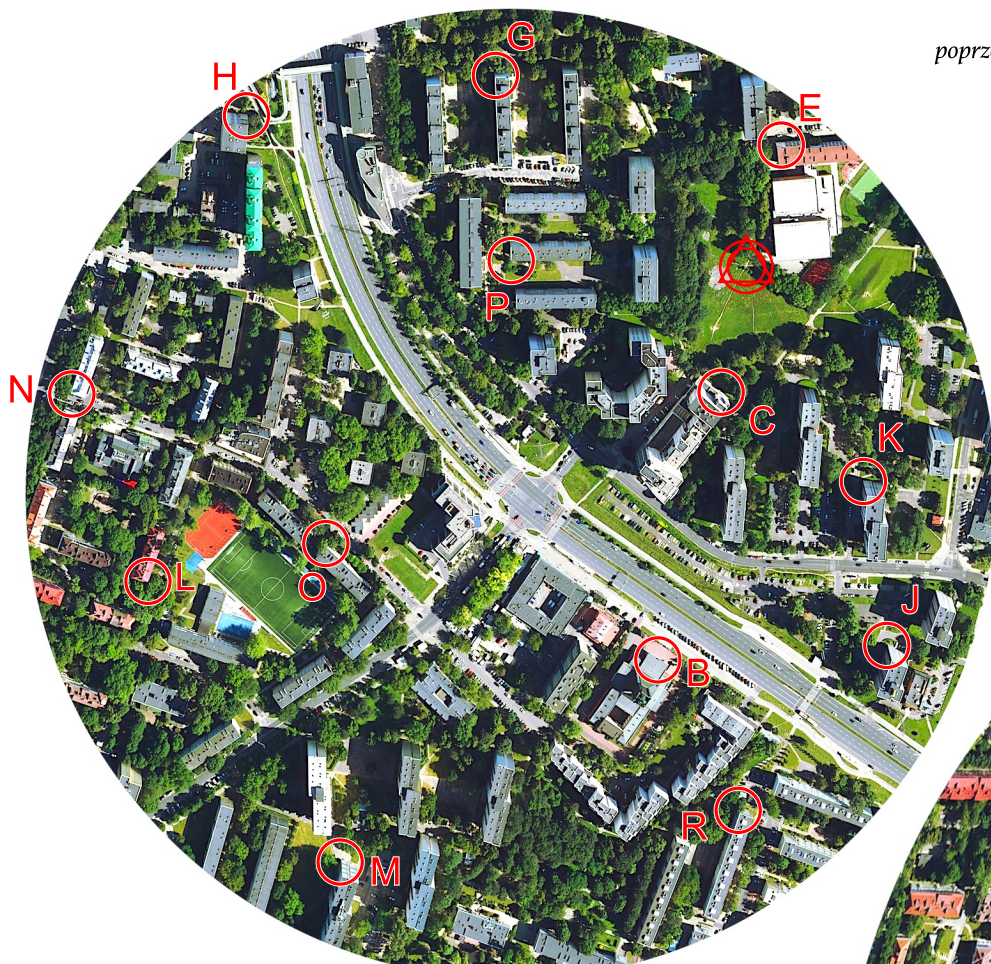
TP

Limit czasu: 90 + 30 min
Długość: 3,2 km
Do potwierdzenia: 20 PK
Kolejność dowolna.

Mapa składa się z trzech wycinków.
Każdy pokrywa się częściowo
z przynajmniej jednym innym.
Dwa z wycinków doznały rozciągnięcia :)

Na trasie rozmieszczone są małe lampiony (6x9 cm)
bez kredek. Potwierdzenia dokonujemy
poprzez wpisanie w pole karty startowej oznaczenie
PK z mapy oraz kod z lampionu.

Uwaga, poniższe PK potwierdzamy udzielając
odpowiedzi na zadane pytanie
(w tych miejscach nie ma lampionów):
PK A: Jaki napis z "plytek" na fasadzie budynku?
PK B: W którym roku erygowano parafię?
PK C: Jaka postać z kreskówki w tym miejscu?
PK D: Ilu powstańców oddało życie?
PK E: Jaki dwuliterowy "kod" na budynku?
(nad liczbą)



Zadania:
(odpowiedzi zapisz na odwrocie karty startowej)
1) Jaka litera na szczycie budynku z PK F?
2) Ile wynosi azymut z PK H na PK F?

70

ORTINO

WARSZAWA - SŁUŻEWIEC, 28 IV 2021

Kamemberty



Dzisiaj obchodzimy Dzień Kamemberta, więc i na Was czekają sery :)
Mapa składa się z siedmiu serów. Wszystkie są w planie startu,
jednak w sześciu z nich pozamieniano wierzchy (górne części).

Na trasie rozmieszczone są małe lampiony (6x9 cm) bez kredek.
Potwierdzenia dokonujemy poprzez wpisanie w pole karty startowej oznaczenie
PK z mapy oraz kod z lampionu.

Poniższe PK potwierdzamy udzielając odpowiedzi pytania
(w tych miejscach nie ma lampionów):

PK A: Co trzyma miś?

PK B: Kiedy erygowano parafię?

PK C: Ilu powstańców oddało życie?

PK D: Jaki dwuliterowy "kod" na budynku? (nad liczbą)

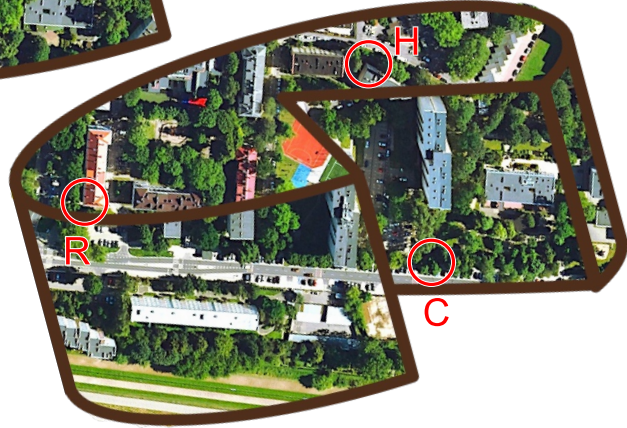
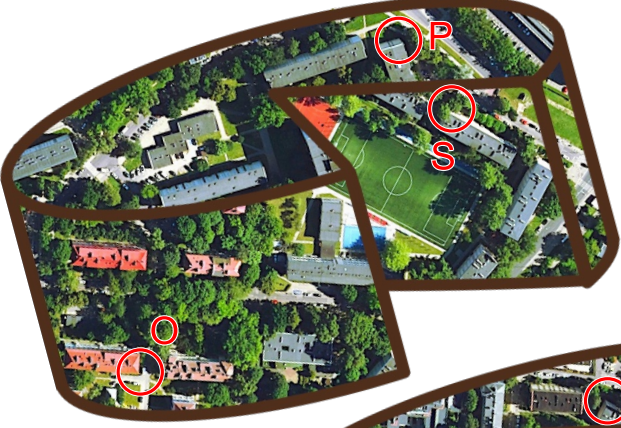
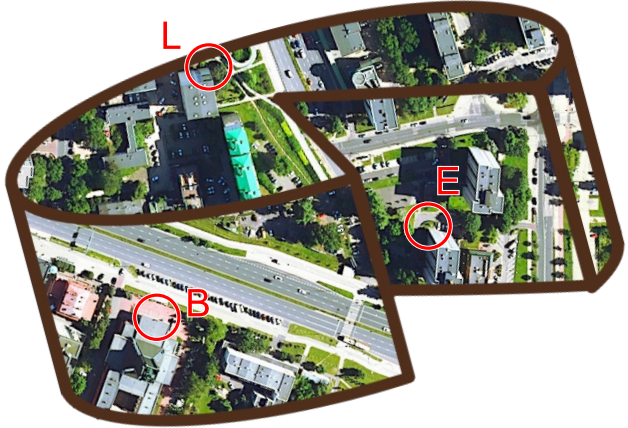
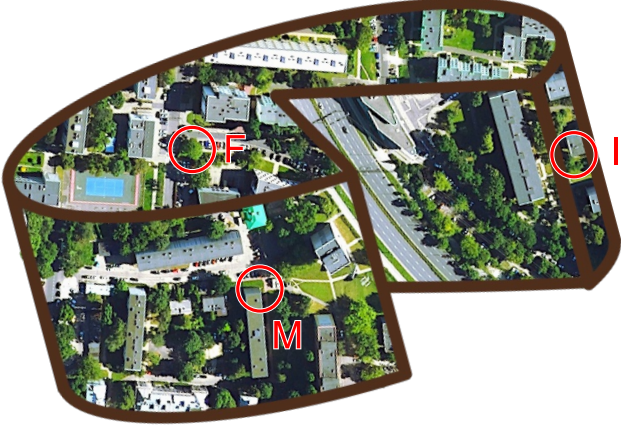
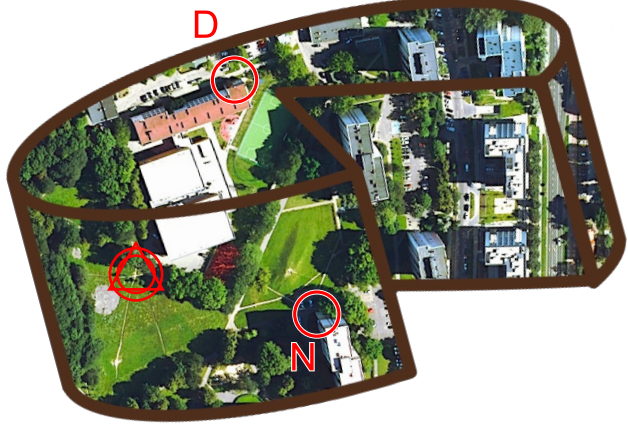
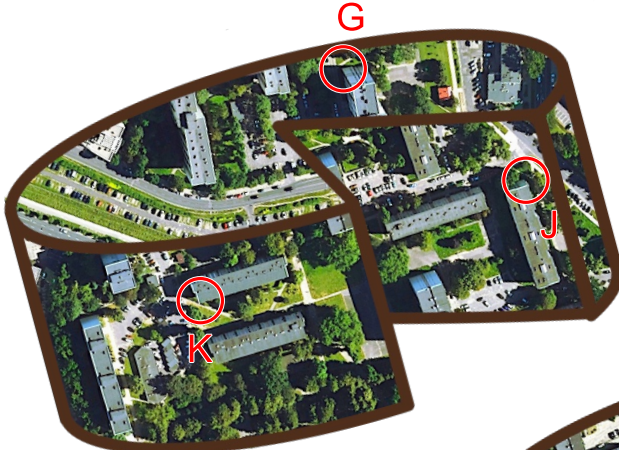
Limit czasu: 100 + 30 min

Długość: 3,7 km

Do potwierdzenia: 20 PK

Kolejność dowolna.

TU



- Zadania:
- 1) Jaka litera na szczycie budynku z PK E?
 - 2) Ile wynosi azymut z PK H na PK F?

Źródło map: geoportal.gov.pl & maps.google.com
Opracowanie: Barbara Szynit
Tel. awaryjny: 501 160 903

Dzisiaj obchodzimy Dzień Camemberta, więc i na Was czekają okrągłutkie sery :)

Mapa składa się z 17 serów. W planie startu są wybrane ulice oraz niebieskie sery. Jednak część z nich została poobrączana. Żółte sery pokrywają się częściowo z niebieskimi lub ze sobą, są różnej starości oraz doznały obrotów i przeskalowań (luster brak).

Na trasie rozmieszczone są małe lampiony (6x9 cm) bez kredek.

Potwierdzenia dokonujemy poprzez wpisanie w pole karty startowej oznaczenie PK z mapy oraz kod z lampionu.

TZ

Poniższe PK potwierdzamy udzielając odpowiedzi pytania

(w tych miejscach nie ma lampionów):

PK A: Co zamiast "K" w "przedszkolu"?

PK B: Ilu powstańców oddało życie?

PK C: Jaka kreskówkowa postać na muralu?

PK D: Co trzyma miś?

PK E: Drugi wyraz napisu z płytek na fasadzie?



Źródło map: geoportals.gov.pl & maps.google.com
Opracowanie: Barbara Szmyt
Tel. awaryjny: 501 160 903

Zadania:
1) Jaka litera na szczycie budynku z PK F?
2) Ile wynosi azymut z PK H na PK F?

T = 110 + 30 min
L = 4,2 km
PK: 24
Kolejność dowolna.