

Mapa składa się z dwóch liści częściowo na siebie zachodzących.

Są one obrócone względem siebie o nieznany kąt.

Na trasie rozmieszczone są małe lampiony (6x9 cm) bez kredek.

Potwierdzenia dokonujemy
poprzez wpisanie w pole karty
startowej oznaczenie
PK z mapy oraz kod z lampionu.

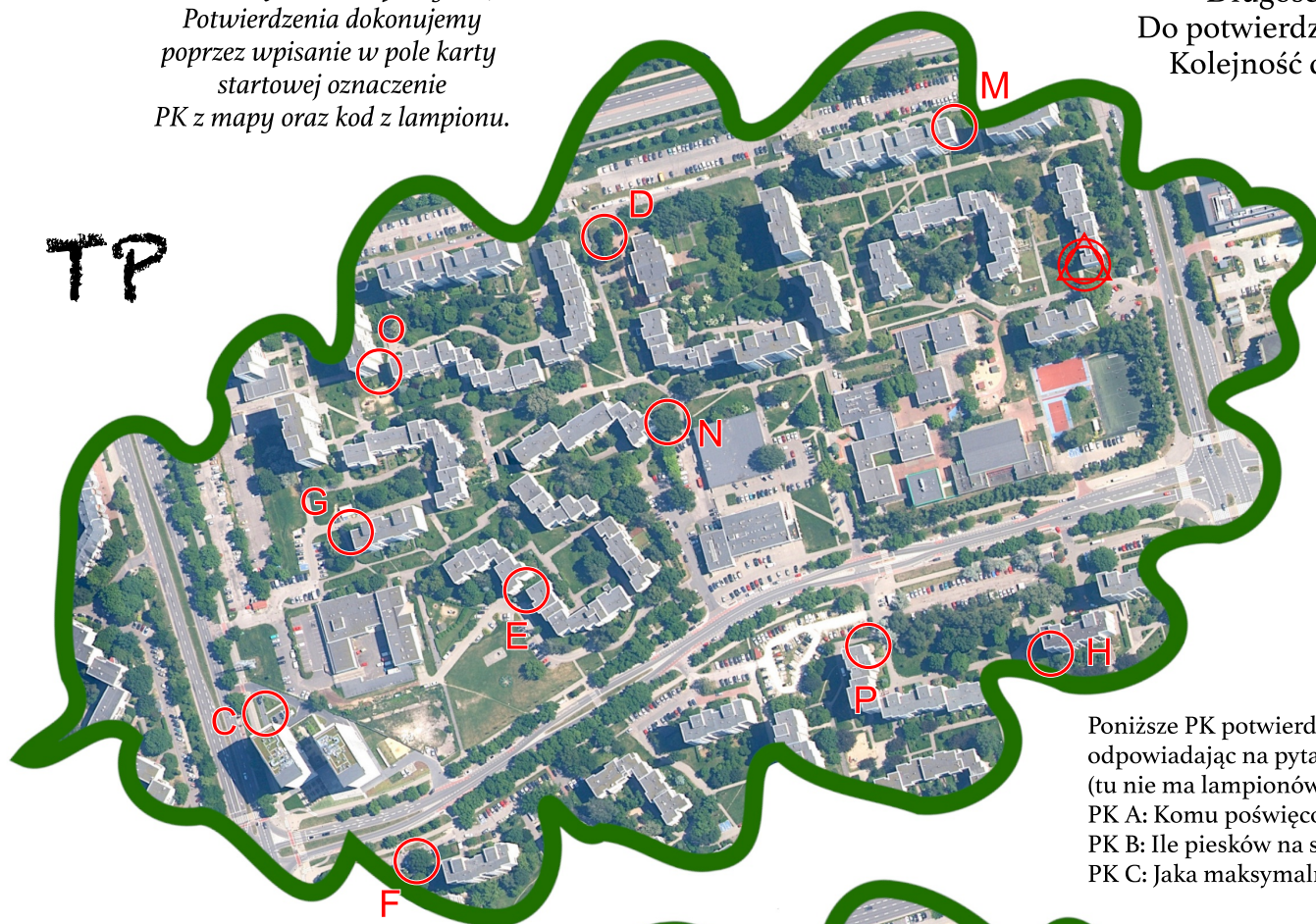
Limit czasu: 90 + 30 min

Długość: 3 km

Do potwierdzenia: 19 PK

Kolejność dowolna.

TP



Poniższe PK potwierdzamy
odpowiadając na pytanie
(tu nie ma lampionów):

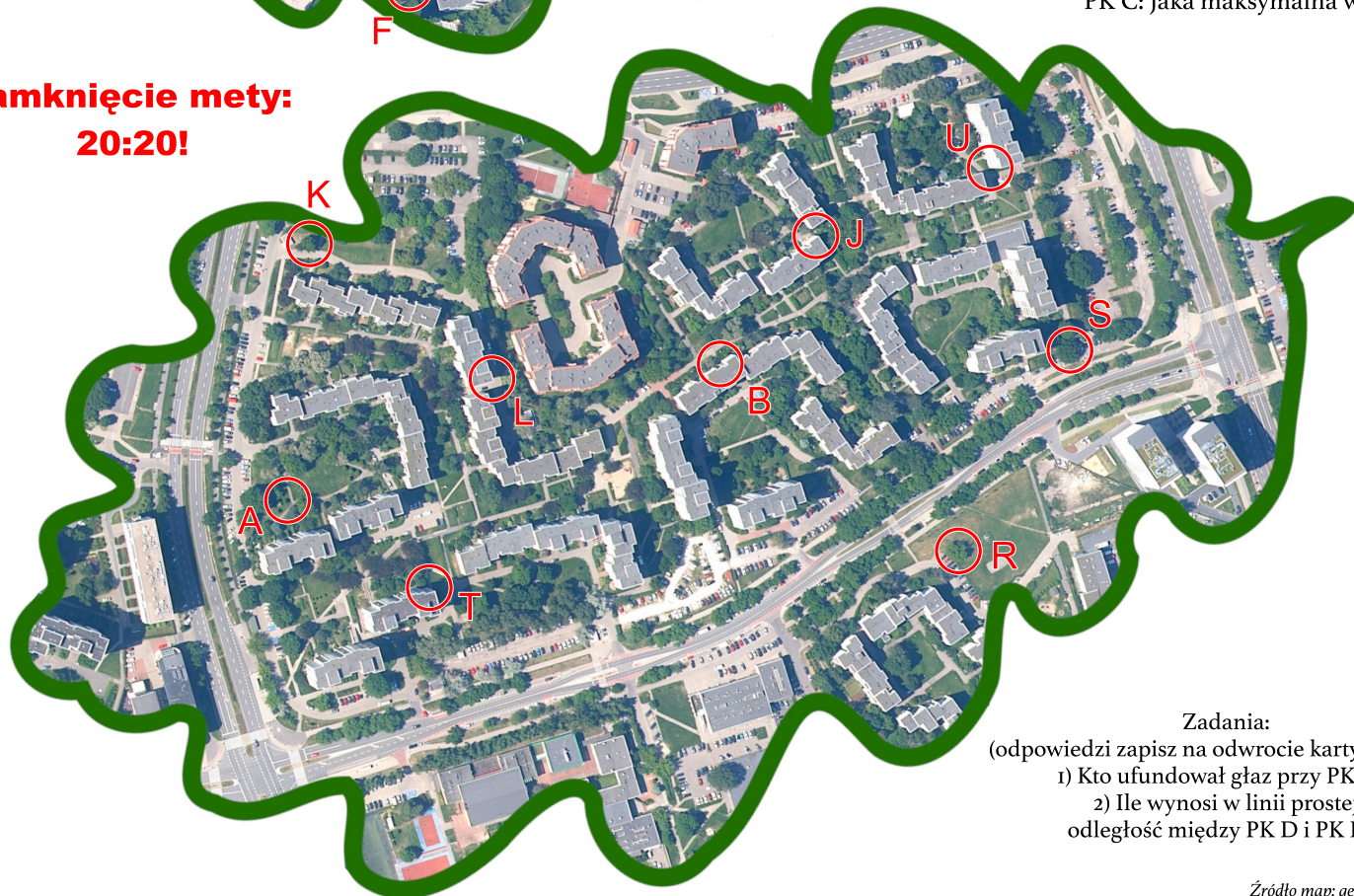
PK A: Komu poświęcone drzewko?

PK B: Ile pieszków na szybie?

PK C: Jaka maksymalna wysokość?

Zamknięcie mety:

20:20!



Zadania:

(odpowiedzi zapisz na odwrocie karty startowej)

1) Kto ufundował głąz przy PK A?

2) Ile wynosi w linii prostej
odległość między PK D i PK K?

Zima przyszła?



Mapa składa się z 15 śniegowych kul.
Czarne są w planie startu/mety.
Zielone pozamieniały się miejscami,
natomiast środki pomarańczowych oznaczono kropkami.

Brak obrotów i luster :)

Na trasie rozmieszczone są małe lampiony
(6x9 cm) bez kredek.

Potwierdzenia dokonujemy
poprzez wpisanie w pole karty
startowej oznaczenie

PK z mapy oraz kod z lampionu.


Poniższe PK potwierdzamy
odpowiadając na pytanie
(tu nie ma lampionów):

PK A: Komu poświęcone drzewko?

PK B: Ile piesków na szybie?


PK C: Litera na żółtym tle?

TU



Zadania:
1) Czyja Nagroda PK A?
2) Ile wynosi w linii prostej
odległość między PK E i PK K?

Limit czasu: 91 + 31 min
Długość: 3,1 km
Do potwierdzenia: 17 PK
Kolejność dowolna.



**Zamknięcie mety:
20:20!**

Źródło map: geoportal.gov.pl
Opracowanie: Barbara Szmyt
Tel. awaryjny: 501 160 903



Mapa składa się z 15 śniegowych kul.
Brązowe są w planie startu/mety.
Zielone pozamieniały się miejscami,
natomiast środki fioletowych oznaczono kropkami.

1/3 wszystkich kul jest poobracana,

a kolejna 1/3 - zlustrowana.

Opis PK z fioletowych kul:

numer kropki + oznaczenie PK + kod z lampionu.

Na trasie rozmieszczone są małe lampiony

(6x9 cm) bez kredek.

Potwierdzenia dokonujemy

poprzez wpisanie w pole karty

startowej oznaczenie

PK z mapy oraz kod z lampionu.

Poniższe PK potwierdzamy

odpowiadając na pytanie

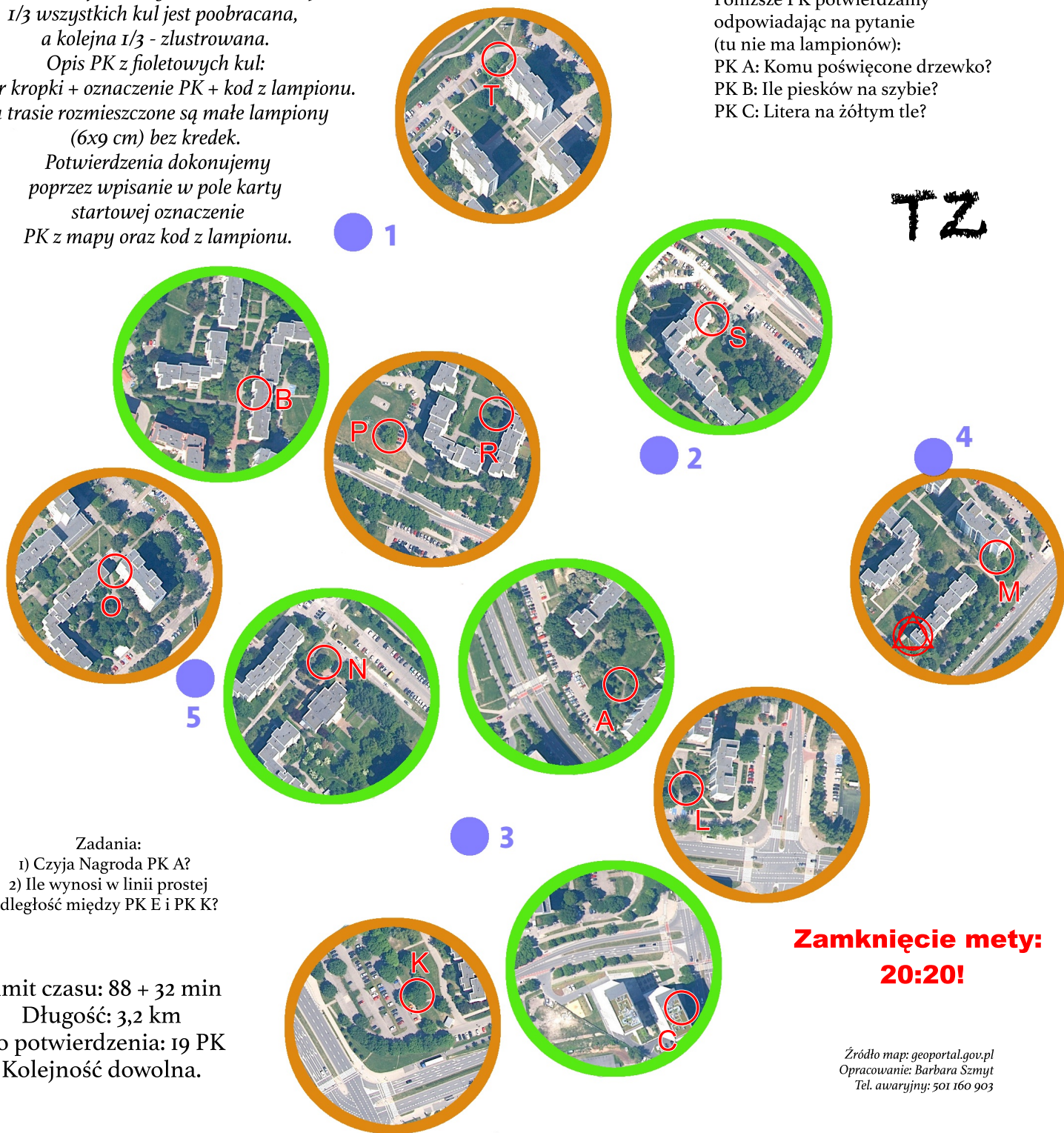
(tu nie ma lampionów):

PK A: Komu poświęcone drzewko?

PK B: Ile piesków na szybie?

PK C: Litera na żółtym tle?

TZ



Zadania:

1) Czyja Nagroda PK A?

2) Ile wynosi w linii prostej odległość między PK E i PK K?

Limit czasu: 88 + 32 min

Długość: 3,2 km

Do potwierdzenia: 19 PK

Kolejność dowolna.

Zamknięcie mety:

20:20!

Źródło map: geoportal.gov.pl

Opracowanie: Barbara Szyt

Tel. awaryjny: 501 160 903



