



SPACER Z OCHOTĄ

TP

Długość trasy: ok 3.8 km
Limit czasu: 120' + 30'
Liczba PK: 16
Kolejność potwierdzeń: dowolna
Skala: nieznana
Źródło mapy: geoportal.gov.pl

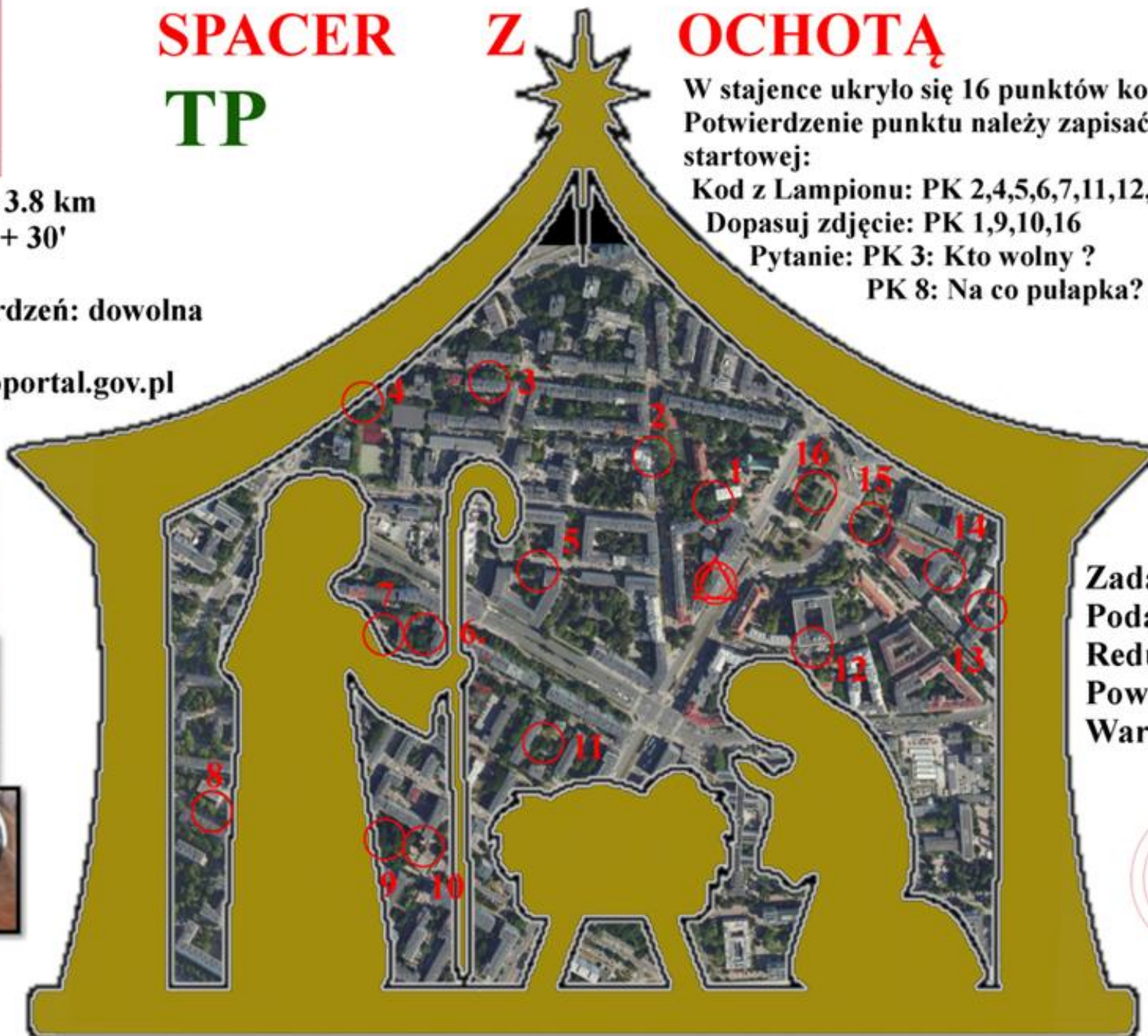
W stajence ukryło się 16 punktów kontrolnych.
Potwierdzenie punktu należy zapisać na karcie startowej:

Kod z Lampionu: PK 2,4,5,6,7,11,12,13,14,15

Dopasuj zdjęcie: PK 1,9,10,16

Pytanie: PK 3: Kto wolny ?

PK 8: Na co pułapka?



Zadanie:
Podaj nazwę
Reduty z czasu
Powstania
Warszawskiego



autor mapy: Zuzanna Malanowska, PInO 719

Warszawa
Ochota

20 XII
2025 r.



DWA PO TRZY BAŁWANY... TU

DWA PO TRZY... BAŁWANY

ich kule się poprzekęcały, zlustrowały,
a niektóre nawet kulkami pozamieniały.

Limit czasu: 100 + 20 min

Liczba PK: 26

Kolejność Potwierdzeń dowolna

Skala nieznana

Źródło mapy: oomap.co.uk

Start i meta: "Przystanek Książka"

Zadaniem twoim jest iść w miasto,
BAŁWANY poukładać, a wtedy odnajdziesz punkty.
Musisz zebrać jak najwięcej punktów kontrolnych
(podając numer PK i kod z lampionu
lub odpowiedź na pytanie).

ZADANIE SPECJALNE:

podaj azymut ze STARTU na B2.

- A1. Kwiat w nazwie?
- A2. Ile piesków?
- A3. Ile reniferów?
- A4. Numer trafo?
- A5. Ile dwójek w numerze?

- B1. Ile gwiazdek w logo?
- B2. Dokończ: P-...?
- B3. Co siedzi na książkach?
- B4. Jakie wyprawy?

- C1. Numer budynku?
- C2. Jaka strefa?
- C3. Kto położył kamień węgielny?
- C4. Co to za zwierz?

- H1. Ile garaży?
- H2. Ile NUNU?
- H3. Ile bałwanów?
- H4. Ile kobiet?
- H5. W jakich dniach?



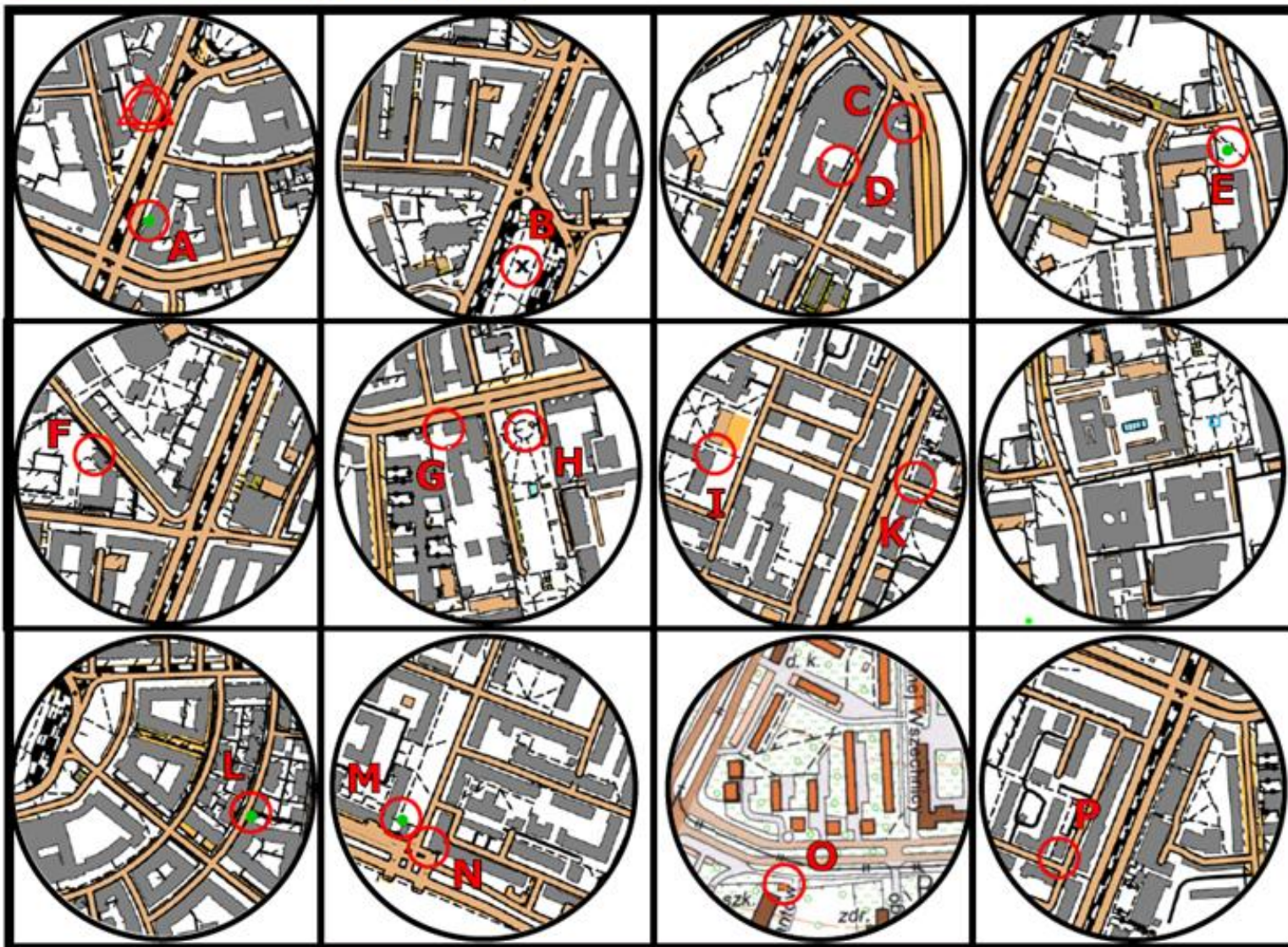


Długość trasy: 4,4 km
 Limit czasu: 105 + 30 min
 Liczba PK: 15
 Kolejność potwierdzeń: dowolna
 Skala: nieznana
 źródła mapy: <http://oomap.co.uk>
polska.geoportal2.pl



Tuzin/TZ

...bombek w pudełku, schemat cięcia mapy jest po prawej, zaznaczone kolorem kółko to wycinek ze startem. Tam, gdzie nie ma lampionu, dopasuj zdjęcie - potwierdzeniem PK jest kod przy zdjęciu.



MI



RE



HT



PO



GU



KR

Krawiec

ST



CH



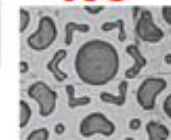
KI



NŻ



KO



OS

osiemnastą